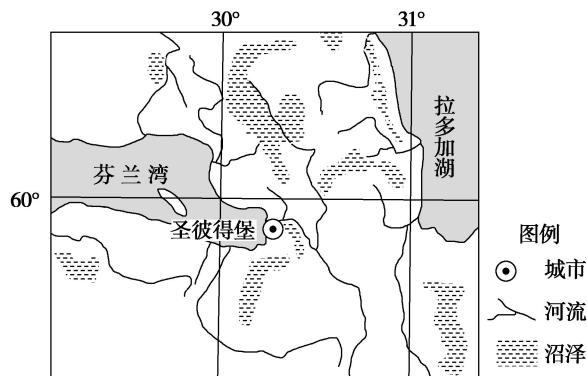


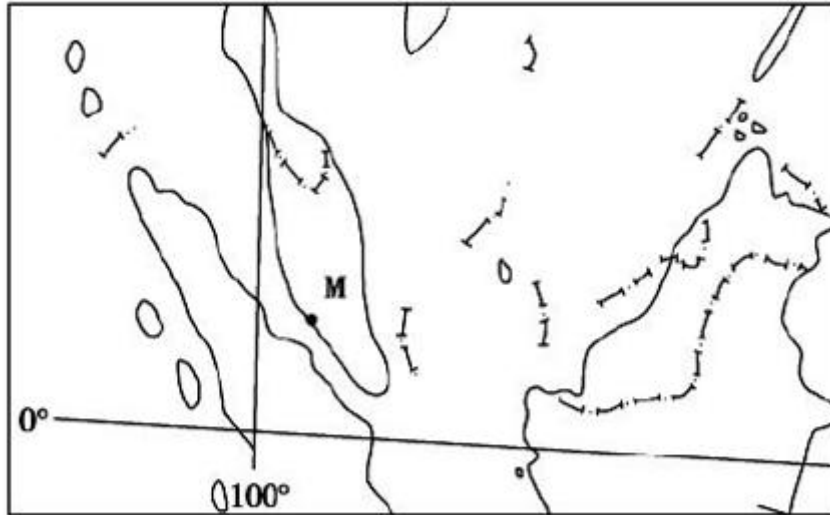
专题 地理环境与区域发展

(2020·廊坊市第一中学高三月考) 十多年来, 中国某建筑公司在俄罗斯完成了多个质量过硬、广受赞誉的建筑项目, 成为中国企业在俄罗斯的亮丽名片。该公司承建的圣彼得堡涅瓦商业中心建有深达 15.5 米的四层地下室, 但由于自然条件的限制, 该市的建筑很少建有地下室。2015 年 9 月, 该公司正式接手修复位于莫斯科 ($55^{\circ} 45' N$, $37^{\circ} 37' E$) 的某工程, 公司采用独创的施工方法克服了建筑企业冬季停工的困难, 缩短了 5 个多月工期, 创造了俄罗斯古建筑修复最快速度的纪录。下图示意圣彼得堡市位置。据此完成下面小题。



1. 圣彼得堡市难以建筑地下室的主要原因是 ()
 - A. 地下岩层坚硬
 - B. 海水倒灌严重
 - C. 地下冻土频繁冻融
 - D. 沼泽地质特征显著
2. 该公司为了能够在冬季继续施工采取的主要措施是 ()
 - A. 搭建封闭暖棚
 - B. 及时清理积雪
 - C. 增加灯光照明
 - D. 提供保暖衣物

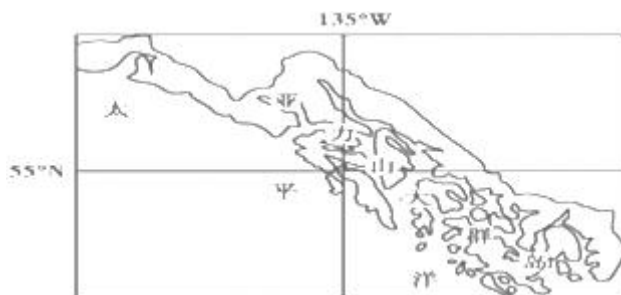
(2020·肥东县综合高中高三三模) 某跨国纸业集团计划在下图地区投资办厂, 读下图完成下面小题



3. 有关图中地区地理特点的描述，可信的是
- A. 气旋活动频繁，多大风天气
 - B. 地形以山地高原为主，森林覆盖率高
 - C. M地正午太阳高度角小，距海洋近，多阴雨天气
 - D. 旅游资源丰富，多数国家经济结构单一
4. 该造纸集团在此地区进行生产基地选址考虑的主要因素是
- A. 科技发达
 - B. 水资源丰富
 - C. 气候条件优越
 - D. 低廉的劳动力成本

(2020·四川省泸县第二中学高三月考) 亚历山大群岛位于阿拉斯加东南部沿海，邻近阿拉斯加渔场。

该群岛由 1100 个大小岛屿组成，是地壳下沉，海水淹没陆地，山顶露出海面而成。该群岛年降水量超过 2000 毫米，且全年分配均匀，岛上有陡峭的海岸和茂密常绿的温带雨林（温带雨林在某些方面与热带雨林相似，例如都有高大的乔木、茂盛的灌木和众多的附生植物，以及大量的野生动物）。下图是亚历山大群岛位置示意图。读图，回答下列各题。



5. 亚历山大群岛海岸陡峭的主要原因是 ()
- ①断层发育形成岛屿
 - ②长期受海浪侵蚀
 - ③风力侵蚀作用明显
 - ④山顶出露海面形成

- A. ①② B. ②③ C. ②④ D. ③④

6. 亚历山大群岛分布着茂密常绿的温带雨林，主要是由于（ ）

- A. 全年气候温和，位于西风带迎风坡，降水丰富
 B. 受沿岸暖流增温增湿作用
 C. 地处中纬度地区，温度适宜
 D. 夏季白昼时间长，光照条件充足

7. 下列选项中最有可能成为亚历山大群岛支柱产业的是（ ）

- A. 仪表制造 B. 水产品加工
 C. 服装加工 D. 海滨浴场旅游

（2020·通榆县第一中学高二月考） 福建海坛岛面积 276.61 平方千米，人口约 35 万人，地势低

平，是大陆距离宝岛台湾最近的地方，当地盛传“光长石头不长草，风吹石头满地跑，房子像碉堡”的民谣。据此完成下列各题。

8. 该民谣反映了当地气候的突出特点是

- A. 风力大 B. 日照强
 C. 降水多 D. 气温高

9. 依据当地自然环境特征，推测海坛岛传统民居的特点是

- A. 高大、屋顶尖、窗大 B. 低矮、屋顶缓、窗大
 C. 高大、屋顶尖、窗小 D. 低矮、屋顶缓、窗小

下表为 2019 年我国四大地区部分指标统计表。完成 10、11 题。

指 标	四大地区			
	甲	乙	丙	丁
土地面积占全国比例 (%)	8.2	10.7	9.5	71.6
人口占全国比例 (%)	7.7	26.5	38.6	27.2
人均 GDP (万元)	4.7	5.9	9.4	5.4

注：数据未包括我国香港、澳门特别行政区和台湾省。

10. 甲、乙、丙、丁中代表中部地区的是（ ）

- A. 甲 B. 乙 C. 丙 D. 丁

11. 我国四大地区中（ ）

- A. 东北地区工业以先进制造业为主体 B. 西部地区处于低水平均衡发展状态

C. 中部地区的城市化水平低于东北地区 D. 东部地区第一产业比重高于西部地区

12. 阅读材料，回答下列问题。

材料一 尼日尔河源于富塔贾隆高原，注入几内亚湾，全长约 4200km，流域面积 210 万 km²，在塞古-迪雷间的盆地形成大型内陆三角洲，在几内亚湾发育了巨型河口三角洲。

材料二 图 14 为“尼日尔河流域及降水分布示意图”，表 1 为“尼日尔河部分水文站年径流量与年输沙量统计表”。

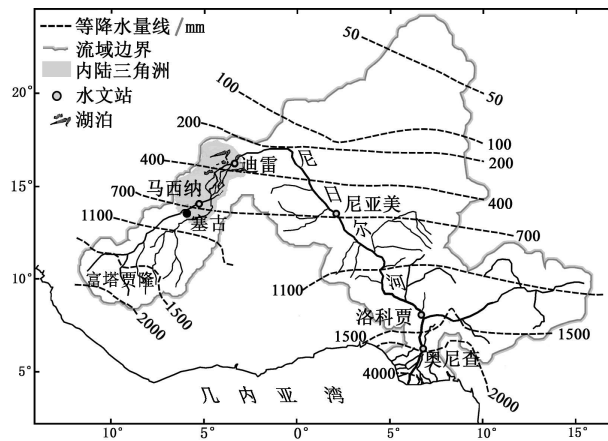


图 14

表 1

水文站	马西纳	迪雷	尼亚美	洛科贾	奥尼查
年径流量 (km ³)	41	30	27	73	182
年输沙量 (万吨)	177	100	350	1290	5800

简析河口三角洲地区的自然地理环境特征。