

山东省枣庄市 2021 届高三第二次模拟测试

数学试题

一、单项选择题（本大题共 8 小题，每小题 5 分，共计 40 分. 在每小题给出的四个选项中，只有一个是符合题目要求的，请把答案添涂在答题卡相应位置上）

1. 已知集合 $A = \{x | y = \ln x\}$ ， $B = \{y \in Z | y = 2 \sin x\}$ ，则 $A \cap B =$

A. $(0, 2]$ B. $[0, 2]$ C. $\{1, 2\}$ D. $\{0, 1, 2\}$
2. 命题 “ $\forall n \in N, n^2 - 1 \in Q$ ” 的否定为

A. $\forall n \in N, n^2 - 1 \notin Q$ B. $\forall n \notin N, n^2 - 1 \in Q$

C. $\exists n \in N, n^2 - 1 \notin Q$ D. $\exists n \in N, n^2 - 1 \in Q$
3. 已知函数 $f(x) = \begin{cases} e^{x+\ln 2}, & x \leq 0 \\ f(x-3), & x > 0 \end{cases}$ ，则 $f(2021) =$

A. $\frac{2}{e}$ B. $2e$ C. $\frac{2}{e^2}$ D. $2e^2$
4. 已知点 $(1, 1)$ 在抛物线 $C: y^2 = 2px (p > 0)$ 上，则 C 的焦点到其准线的距离为

A. $\frac{1}{4}$ B. $\frac{1}{2}$ C. 1 D. 2
5. 大数学家欧拉发现了一个公式： $e^{ix} = \cos x + i \sin x$ ， i 是虚数单位， e 为自然对数的底数. 此公式被誉为 “数学中的天桥”. 根据此公式， $(\cos \frac{\pi}{4} + i \sin \frac{\pi}{4})^{2022} =$

（注：底数是正实数的实数指数幂的运算律适用于复数指数幂的运算）

A. 1 B. -1 C. i D. $-i$
6. 若 $x^6 = a_0 + a_1(x+1) + a_2(x+1)^2 + a_3(x+1)^3 + \dots + a_6(x+1)^6$ ，则 $a_3 =$

A. 20 B. -20 C. 15 D. -15
7. 医用口罩由口罩面体和拉紧带组成，其中口罩面体分为内、中、外三层. 内层为亲肤材质（普通卫生纱布或无纺布），中层为隔离过滤层（超细聚丙烯纤维熔喷材料层），外层为特殊材料抑菌层（无纺布或超薄聚丙烯熔喷材料层）. 根据国家质量监督检验标准，医用口罩的过滤率是重要的指标，根据长期生产经验，某企业在生产线状态正常情况下生产的医用口罩的过滤率 $x \sim N(0.9372, 0.0139^2)$. 若 $x \sim N(\mu, \sigma^2) (\sigma > 0)$ ，则 $P(\mu - 2\sigma < x \leq \mu + 2\sigma) = 0.9545$ ， $P(\mu - 3\sigma < x \leq \mu + 3\sigma) = 0.9973$ ， $0.97725^{50} \approx 0.3164$. 有如下命题：

甲： $P(x \leq 0.9) < 0.5$ ；乙： $P(x < 0.4) > P(x > 1.5)$ ；丙： $P(x > 0.9789) = 0.00135$ ；丁：假设生产状态正常，记 X 表示一天内抽取的 50 只口罩中过滤率大于 $\mu + 2\sigma$ 的数量，则 $P(X \geq 1) \approx 0.6$. 其中假命题是

A. 甲 B. 乙 C. 丙 D. 丁
8. 已知椭圆 C 与双曲线 $x^2 - y^2 = 1$ 有相同的左焦点 F_1 、右焦点 F_2 ，点 P 是两曲线的一个交

点, 且 $\overrightarrow{PF_1} \cdot \overrightarrow{PF_2} = 0$. 过 F_2 作倾斜角为 45° 的直线交 C 于 A, B 两点(点 A 在 x 轴的上方),

且 $\overrightarrow{AB} = \lambda \overrightarrow{AF_2}$, 则 λ 的值为

- A. $3 + \sqrt{3}$ B. $3 + \sqrt{2}$ C. $2 + \sqrt{3}$ D. $2 + \sqrt{2}$

二、多项选择题(本大题共 4 小题, 每小题 5 分, 共计 20 分. 在每小题给出的四个选项中, 至少有两个是符合题目要求的, 请把答案添涂在答题卡相应位置上)

9. 已知 $a > 0, b > 0, a + b^2 = 1$, 则

- A. $a + b < \frac{5}{4}$ B. $a - b > -1$ C. $\sqrt{a} \cdot b \leq \frac{1}{2}$ D. $\frac{\sqrt{a}}{b-2} \geq -\frac{\sqrt{3}}{3}$

10. 已知函数 $f(x) = |\sin x| + \sqrt{3} \left| \sin(x - \frac{\pi}{2}) \right|$, 则

- A. $f(x)$ 在 $[\frac{\pi}{2}, \pi]$ 上的最小值是 1
 B. $f(x)$ 的最小正周期是 $\frac{\pi}{2}$
 C. 直线 $x = \frac{k\pi}{2} (k \in \mathbb{Z})$ 是 $f(x)$ 图象的对称轴
 D. 直线 $y = \frac{2}{\pi}x$ 与 $f(x)$ 的图象恰有 2 个公共点

11. 列昂纳多·斐波那契(Leonardo Fibonacci, 1170—1250 年)是意大利数学家, 1202 年斐波那契在其代表作《算盘书》中提出了著名的“兔子问题”, 于是得斐波那契数列, 斐波那契数列可以如下递推的方式定义: 用 $F(n) (n \in \mathbb{N}^*)$ 表示斐波那契数列的第 n 项, 则

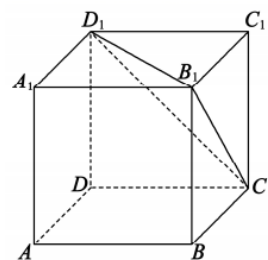
数列 $\{F(n)\}$ 满足: $F(1) = F(2) = 1, F(n+2) = F(n+1) + F(n)$. 斐波那契数列在生活中

有着广泛的应用, 美国 13 岁男孩 Aidan Dwyer 观察到树枝分叉的分布模式类似斐波那契数列, 因此猜想可按其排列太阳能电池, 找到了能够大幅改良太阳能科技的方法. 苹果公司的 Logo 设计, 电影《达芬奇密码》等, 均有斐波那契数列的影子. 下列选项正确的是

- A. $[F(8)]^2 = F(7)F(9) + 1$
 B. $F(1) + F(2) + \dots + F(6) + 1 = F(8)$
 C. $F(2) + F(4) + \dots + F(2n) = F(2n+1) - 2$
 D. $[F(1)]^2 + [F(2)]^2 + \dots + [F(n)]^2 = F(n) \cdot F(n+1)$

12. 如图, 正方体 $ABCD-A_1B_1C_1D_1$ 的棱长为 1, 点 P 是 $\triangle B_1CD_1$ 内部(不包括边界)的动点. 若 $BD \perp AP$, 则线段 AP 长度的可能取值为

- A. $\frac{2\sqrt{3}}{3}$ B. $\frac{6}{5}$



C. $\frac{\sqrt{6}}{2}$

D. $\frac{\sqrt{5}}{2}$

三、填空题 (本大题共 4 小题, 每小题 5 分, 共计 20 分. 请把答案填写在答题卡相应位置上)

13. 已知某地区中小學生人數和近視情況分別如圖 1 和圖 2 所示, 為了解該地區中小學生的近視形成原因, 用分層抽樣的方法抽取 2% 的學生進行調查, 則抽取的高中生中近視人數為_____.

14. 如圖, 由四個全等的三角形與中間的一個小正方形 EFGH 拼成的一個大正方形 ABCD 中, $\overrightarrow{AF} = 3\overrightarrow{AE}$, 設 $\overrightarrow{AF} = x\overrightarrow{AB} + y\overrightarrow{AD}$, 則 $x + y$ 的值为_____.

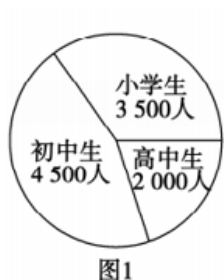


图1

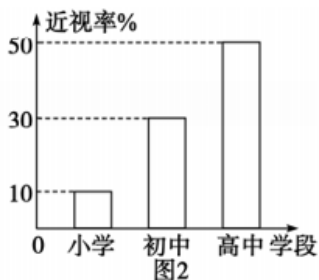
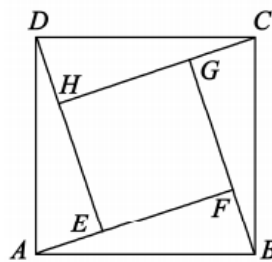


图2

第 13 题



第 14 题

15. 寫出一個圖象關於直線 $x = 2$ 對稱且在 $[0, 2]$ 上單調遞增的偶函數 $f(x) =$ _____.

16. 2020 年 11 月 23 日國務院扶貧辦確定的全國 832 個貧困縣全部脫貧摘帽, 脫貧攻堅取得重大突破. 為了使扶貧工作繼續推向深入, 2021 年某原貧困縣對家庭狀況較困難的農民實行購買農資優惠政策.

(1) 若購買農資不超過 2 000 元, 則不給予優惠;

(2) 若購買農資超過 2 000 元但不超過 5 000 元, 則按原價給予 9 折優惠;

(3) 若購買農資超過 5 000 元, 不超過 5 000 元的部分按原價給予 9 折優惠, 超過 5 000 元的部分按原價給予 7 折優惠.

該縣家境較困難的一戶農民預購買一批農資, 有如下兩種方案:

方案一: 分兩次付款購買, 實際付款分別為 3 150 元和 4 850 元;

方案二: 一次性付款購買.

若採取方案二購買這批農資, 則比方案一節省_____元.

四、解答题 (本大题共 6 小题, 共计 70 分. 请在答题卡指定区域内作答. 解答时应写出文字说明、证明过程或演算步骤)

17. (本小题满分 10 分)

已知數列 $\{a_n\}$ 中, $a_1 = a_2 = 1$, 且 $a_{n+2} = a_{n+1} + 2a_n$. 記 $b_n = a_{n+1} + a_n$, 求證:

(1) $\{b_n\}$ 是等比數列;

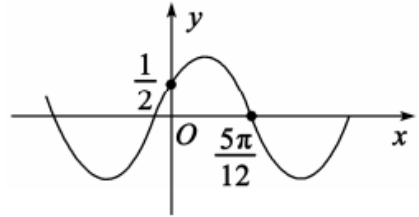
(2) $\{b_n\}$ 的前 n 項和 T_n 滿足 $\frac{b_n}{T_1 \cdot T_2} + \frac{b_3}{T_2 \cdot T_3} + \dots + \frac{b_{n+1}}{T_n \cdot T_{n+1}} < \frac{1}{2}$.

18. (本小题满分 12 分)

若 $f(x) = \sin(\omega x + \varphi)$ ($\omega > 0$, $0 < \varphi < \frac{\pi}{2}$) 的部分图象如图所示, $f(0) = \frac{1}{2}$, $f(\frac{5\pi}{12}) = 0$.

(1) 求 $f(x)$ 的解析式;

(2) 在锐角 $\triangle ABC$ 中, 若 $A > B$, $f(\frac{A-B}{2} - \frac{\pi}{12}) = \frac{3}{5}$, 求 $\cos \frac{A-B}{2}$, 并证明 $\sin A > \frac{2\sqrt{5}}{5}$.

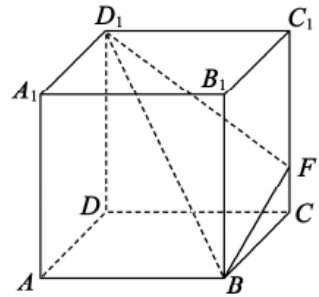


19. (本小题满分 12 分)

如图, 正方体 $ABCD-A_1B_1C_1D_1$ 的棱长为 1, 点 F 在棱 CC_1 上, 过 B, D_1, F 三点的正方体的截面 α 与直线 AA_1 交于点 E .

(1) 找到点 E 的位置, 作出截面 α (保留作图痕迹), 并说明理由;

(2) 已知 $CF = a$, 求 α 将正方体分割所成的上半部分的体积 V_1 与下半部分的体积 V_2 之比.



20. (本小题满分 12 分)

天问一号火星探测器于 2021 年 2 月 10 日成功被火星捕获, 实现了中国在深空探测领域的技术跨越. 为提升探测器健康运转的管理水平, 西安卫星测控中心组织青年科技人员进行探测器遥控技能知识竞赛, 已知某青年科技人员甲是否做对每个题目相互独立, 做对 A, B, C 三道题目的概率以及做对时获得相应的奖金如表所示.

题目	A	B	C
做对的概率	0.8	0.6	0.4
获得的奖金/元	1 000	2 000	3 000

规则如下: 按照 A, B, C 的顺序做题, 只有做对当前题目才有资格做下一题.

(1) 求甲获得的奖金 X 的分布列及均值;

(2) 如果改变做题的顺序, 获得奖金的均值是否相同? 如果不同, 你认为哪个顺序获

得奖金的均值最大？（不需要具体计算过程，只需给出判断）

21. (本题满分 12 分)

已知动点 M 与两个定点 $O(0, 0)$, $A(3, 0)$ 的距离的比为 $\frac{1}{2}$, 动点 M 的轨迹为曲线 C .

(1) 求 C 的轨迹方程, 并说明其形状;

(2) 过直线 $x=3$ 上的动点 $P(3, p)(p \neq 0)$ 分别作 C 的两条切线 PQ 、 PR (Q 、 R 为切点), N 为弦 QR 的中点, 直线 $l: 3x+4y=6$ 分别与 x 轴、 y 轴交于点 E 、 F , 求 $\triangle NEF$ 的面积 S 的取值范围.

22. (本题满分 12 分)

已知函数 $f(x) = a \cos x + 1 - e^{\frac{\pi}{2}-x}$, 且 $f'(\frac{\pi}{2}) = 0$.

(1) 求实数 a 的值, 并判断 $f(x)$ 在 $(0, \frac{\pi}{2})$ 上的单调性;

(2) 对确定的 $k \in N^*$, 求 $f(x)$ 在 $[2k\pi + \frac{\pi}{2}, 2k\pi + \pi]$ 上的零点个数.

山东省枣庄市 2021 届高三第二次模拟测试

数学试题

一、单项选择题（本大题共 8 小题，每小题 5 分，共计 40 分。在每小题给出的四个选项中，只有一个是符合题目要求的，请把答案添涂在答题卡相应位置上）

1. 已知集合 $A = \{x | y = \ln x\}$ ， $B = \{y \in \mathbb{Z} | y = 2\sin x\}$ ，则 $A \cap B =$

- A. $(0, 2]$ B. $[0, 2]$ C. $\{1, 2\}$ D. $\{0, 1, 2\}$

答案：C

解析：集合 $A = \{x | y = \ln x\} = (0, +\infty)$ ， $B = \{y \in \mathbb{Z} | y = 2\sin x\} = \{-2, -1, 0, 1, 2\}$ ，所以 $A \cap B = \{1, 2\}$ ，故选 C.

2. 命题“ $\forall n \in \mathbb{N}, n^2 - 1 \in \mathbb{Q}$ ”的否定为

- A. $\forall n \in \mathbb{N}, n^2 - 1 \notin \mathbb{Q}$ B. $\forall n \notin \mathbb{N}, n^2 - 1 \in \mathbb{Q}$
C. $\exists n \in \mathbb{N}, n^2 - 1 \notin \mathbb{Q}$ D. $\exists n \in \mathbb{N}, n^2 - 1 \in \mathbb{Q}$

答案：C

解析：全称量词的否定，首先全称量词改为存在量词，其次否定结论，故选 C.

3. 已知函数 $f(x) = \begin{cases} e^{x+\ln 2}, & x \leq 0 \\ f(x-3), & x > 0 \end{cases}$ ，则 $f(2021) =$

- A. $\frac{2}{e}$ B. $2e$ C. $\frac{2}{e^2}$ D. $2e^2$

答案：A

解析： $f(2021) = f(-1) = e^{-1+\ln 2} = \frac{2}{e}$ ，故选 A.

4. 已知点 $(1, 1)$ 在抛物线 $C: y^2 = 2px (p > 0)$ 上，则 C 的焦点到其准线的距离为

- A. $\frac{1}{4}$ B. $\frac{1}{2}$ C. 1 D. 2

答案：B

解析：因为点 $(1, 1)$ 在抛物线 C 上，所以 $1 = 2p$ ， $p = \frac{1}{2}$ ，故 C 的焦点到其准线的距离为 $\frac{1}{2}$ ，故选 B.

5. 大数学家欧拉发现了一个公式： $e^{ix} = \cos x + i \sin x$ ， i 是虚数单位， e 为自然对数的底数. 此

公式被誉为“数学中的天桥”. 根据此公式， $(\cos \frac{\pi}{4} + i \sin \frac{\pi}{4})^{2022} =$

（注：底数是正实数的实数指数幂的运算律适用于复数指数幂的运算）

- A. 1 B. -1 C. i D. -i

答案: D

解析: $(\cos \frac{\pi}{4} + i \sin \frac{\pi}{4})^{2022} = [(\frac{\sqrt{2}}{2} + \frac{\sqrt{2}}{2}i)^2]^{1011} = i^{1011} = i^3 = -i$, 故选 D.

6. 若 $x^6 = a_0 + a_1(x+1) + a_2(x+1)^2 + a_3(x+1)^3 + \dots + a_6(x+1)^6$, 则 $a_3 =$

- A. 20 B. -20 C. 15 D. -15

答案: B

解析: $[(x+1)-1]^6 = a_0 + a_1(x+1) + a_2(x+1)^2 + a_3(x+1)^3 + \dots + a_6(x+1)^6$, $a_3 = C_6^3(-1)^3 = -20$,

故选 B.

7. 医用口罩由口罩面体和拉紧带组成, 其中口罩面体分为内、中、外三层. 内层为亲肤材质(普通卫生纱布或无纺布), 中层为隔离过滤层(超细聚丙烯纤维熔喷材料层), 外层为特殊材料抑菌层(无纺布或超薄聚丙烯熔喷材料层). 根据国家质量监督检验标准, 医用口罩的过滤率是重要的指标, 根据长期生产经验, 某企业在生产线状态正常情况下生产的医用口罩的过滤率 $x \sim N(0.9372, 0.0139^2)$. 若 $x \sim N(\mu, \sigma^2) (\sigma > 0)$, 则 $P(\mu - 2\sigma < x \leq \mu + 2\sigma) = 0.9545$, $P(\mu - 3\sigma < x \leq \mu + 3\sigma) = 0.9973$, $0.97725^{50} \approx 0.3164$. 有如下命题:

甲: $P(x \leq 0.9) < 0.5$; 乙: $P(x < 0.4) > P(x > 1.5)$; 丙: $P(x > 0.9789) = 0.00135$; 丁: 假设生产状态正常, 记 X 表示一天内抽取的 50 只口罩中过滤率大于 $\mu + 2\sigma$ 的数量, 则 $P(X \geq 1) \approx 0.6$. 其中假命题是

- A. 甲 B. 乙 C. 丙 D. 丁

答案: D

解析: 对于丁, $P(X \geq 1) = 1 - C_{50}^0 0.02275^0 0.97725^{50} = 1 - 0.3164 \approx 0.7$, 故假命题是丁, 选 D.

8. 已知椭圆 C 与双曲线 $x^2 - y^2 = 1$ 有相同的左焦点 F_1 、右焦点 F_2 , 点 P 是两曲线的一个交

点, 且 $\overrightarrow{PF_1} \cdot \overrightarrow{PF_2} = 0$. 过 F_2 作倾斜角为 45° 的直线交 C 于 A, B 两点(点 A 在 x 轴的上方),

且 $\overrightarrow{AB} = \lambda \overrightarrow{AF_2}$, 则 λ 的值为

- A. $3 + \sqrt{3}$ B. $3 + \sqrt{2}$ C. $2 + \sqrt{3}$ D. $2 + \sqrt{2}$

答案: A

解析: 首先求出椭圆 C 的离心率是 $e = \frac{\sqrt{2}}{\sqrt{3}}$, 因为 $\overrightarrow{AB} = \lambda \overrightarrow{AF_2}$, 所以 $\overrightarrow{AF_2} = \frac{1}{\lambda - 1} \overrightarrow{AB}$, $\lambda > 2$,

$$\text{所以 } \left(\frac{1 - \frac{1}{\lambda - 1}}{1 + \frac{1}{\lambda - 1}} \right)^2 = \frac{\frac{2}{3}}{1 + \tan 45^\circ}, \text{ 解得 } \lambda = 3 + \sqrt{3}, \text{ 故选 A.}$$

二、多项选择题(本大题共 4 小题, 每小题 5 分, 共计 20 分. 在每小题给出的四个选项中, 至少有两个是符合题目要求的, 请把答案添涂在答题卡相应位置上)

9. 已知 $a > 0$, $b > 0$, $a + b^2 = 1$, 则

A. $a+b < \frac{5}{4}$ B. $a-b > -1$ C. $\sqrt{a} \cdot b \leq \frac{1}{2}$ D. $\frac{\sqrt{a}}{b-2} \geq -\frac{\sqrt{3}}{3}$

答案: BCD

解析: 首先可得 $0 < b < 1$, 当 $a = \frac{3}{4}$, $b = \frac{1}{2}$ 时, $a+b = \frac{5}{4}$, 故 A 错误; 经判断, 其他选项均正确, 故选 BCD.

10. 已知函数 $f(x) = |\sin x| + \sqrt{3} \left| \sin(x - \frac{\pi}{2}) \right|$, 则

- A. $f(x)$ 在 $[\frac{\pi}{2}, \pi]$ 上的最小值是 1
- B. $f(x)$ 的最小正周期是 $\frac{\pi}{2}$
- C. 直线 $x = \frac{k\pi}{2} (k \in \mathbb{Z})$ 是 $f(x)$ 图象的对称轴
- D. 直线 $y = \frac{2}{\pi}x$ 与 $f(x)$ 的图象恰有 2 个公共点

答案: ACD

解析: $f(x) = |\sin x| + \sqrt{3} |\cos x|$, $f(x+\pi) = |\sin(x+\pi)| + \sqrt{3} |\cos(x+\pi)| = f(x)$, 而 $f(x+\frac{\pi}{2}) \neq f(x)$, 故

$f(x)$ 的最小正周期是 π , B 错误; 当 $x \in [\frac{\pi}{2}, \pi]$ 时, $f(x) = \sin x - \sqrt{3} \cos x = 2 \sin(x - \frac{\pi}{3})$,

此时 $x - \frac{\pi}{3} \in [\frac{\pi}{6}, \frac{2\pi}{3}]$, 所以 $2 \sin(x - \frac{\pi}{3}) \in [1, 2]$, 故 A 正确;

$f(x) = \begin{cases} 2 \sin(x + \frac{\pi}{3}), & 0 \leq x \leq \frac{\pi}{2} \\ 2 \sin(x - \frac{\pi}{3}), & \frac{\pi}{2} \leq x \leq \pi \end{cases}$, 作出 $f(x)$ 的图像, 再作出直线 $y = \frac{2}{\pi}x$ 的图像, 可以

判断出 C、D 都正确, 故选 ACD.

11. 列昂纳多·斐波那契(Leonardo Fibonacci, 1170—1250 年)是意大利数学家, 1202 年斐波那契在其代表作《算盘书》中提出了著名的“兔子问题”, 于是得斐波那契数列, 斐波那契数列可以如下递推的方式定义: 用 $F(n) (n \in \mathbb{N}^*)$ 表示斐波那契数列的第 n 项, 则

数列 $\{F(n)\}$ 满足: $F(1) = F(2) = 1$, $F(n+2) = F(n+1) + F(n)$. 斐波那契数列在生活中

有着广泛的应用, 美国 13 岁男孩 Aidan Dwyer 观察到树枝分叉的分布模式类似斐波那契数列, 因此猜想可按其排列太阳能电池, 找到了能够大幅改良太阳能科技的方法. 苹果公司的 Logo 设计, 电影《达芬奇密码》等, 均有斐波那契数列的影子. 下列选项正确的是

- A. $[F(8)]^2 = F(7)F(9) + 1$
- B. $F(1) + F(2) + \dots + F(6) + 1 = F(8)$
- C. $F(2) + F(4) + \dots + F(2n) = F(2n+1) - 2$

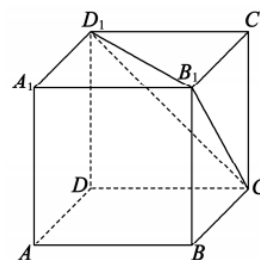
D. $[F(1)]^2 + [F(2)]^2 + \dots + [F(n)]^2 = F(n) \cdot F(n+1)$

答案: BD

解析: 选项 A, $[F(8)]^2 = 21^2$, $F(7)F(9)+1=13 \times 34+1$, 显然 $[F(8)]^2 \neq F(7)F(9)+1$, A 错

误; 选项 C, 当 $n=3$ 时, $F(2)+F(4)+F(6)=12$, $F(7)-2=13-2=11$, 故 $F(2)+F(4)+F(6) \neq F(7)-2$, C 错误. 故选 BD.

12. 如图, 正方体 $ABCD-A_1B_1C_1D_1$ 的棱长为 1, 点 P 是 $\triangle B_1CD_1$ 内部 (不包括边界) 的动点. 若 $BD \perp AP$, 则线段 AP 长度的可能取值为



- A. $\frac{2\sqrt{3}}{3}$
- B. $\frac{6}{5}$
- C. $\frac{\sqrt{6}}{2}$
- D. $\frac{\sqrt{5}}{2}$

答案: ABC

解析: 根据 $BD \perp$ 平面 ACC_1A_1 , 设 O_1 为 A_1C_1 与 B_1D_1 的交点, 则平面 $ACC_1A_1 \cap$ 平面 B_1CD_1

$= O_1C$, 故点 P 在线段 O_1C 上运动, 求得 $O_1A = O_1C = \frac{\sqrt{3}}{2}$, $AC = \sqrt{2}$, 点 A 到 O_1C

的距离为 $\frac{2\sqrt{3}}{3}$, 故 $\frac{2\sqrt{3}}{3} \leq AP < \sqrt{2}$, 故选 ABC.

三、填空题 (本大题共 4 小题, 每小题 5 分, 共计 20 分. 请把答案填写在答题卡相应位置上)

13. 已知某地区中小学生人数和近视情况分别如图 1 和图 2 所示, 为了解该地区中小学生的近视形成原因, 用分层抽样的方法抽取 2% 的学生进行调查, 则抽取的高中生中近视人数为_____.

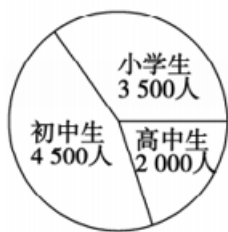


图1

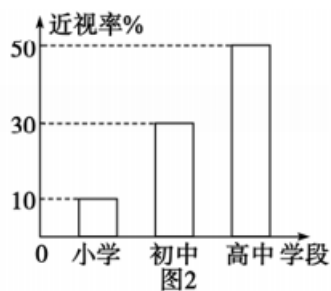
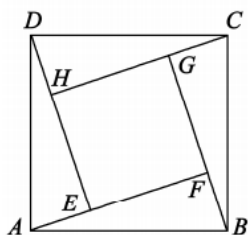


图2

答案: 20

解析: $2000 \times 50\% \times 2\% = 20$ (人)

14. 如图, 由四个全等的三角形与中间的一个小正方形 EFGH 拼成的一个大正方形 ABCD 中, $\overline{AF} = 3\overline{AE}$, 设 $\overline{AF} = x\overline{AB} + y\overline{AD}$, 则 $x+y$ 的值为_____.



答案: $\frac{6}{5}$

解析: 连接 BD 交 AF 于点 M, 令 BF=1, 则 AF=3,

$$\tan \angle FBM = \tan(\angle ABF - 45^\circ) = \frac{1}{2}, \text{ 所以 } FM = \frac{1}{2}, AM = \frac{5}{2},$$

$$\text{根据等和线知识可得 } x + y = \frac{AF}{AM} = \frac{3}{\frac{5}{2}} = \frac{6}{5}.$$

15. 写出一个图象关于直线 $x=2$ 对称且在 $[0, 2]$ 上单调递增的偶函数 $f(x) = \underline{\hspace{2cm}}$.

答案: 答案不唯一, 开放性试题, 符合题意的均给分

解析: $-\cos \frac{\pi}{2}x$; $\left| \sin \frac{\pi}{4}x \right|$; $|x-4k|$, $x \in [4k-2, 4k+2]$, $k \in \mathbb{Z}$; $(x-4k)^2$, $x \in [4k-2,$

$4k+2]$, $k \in \mathbb{Z}$ 等 (符合题意的均给分, 注意 $\left| \tan \frac{\pi}{4}x \right|$ 不正确)

16. 2020 年 11 月 23 日国务院扶贫办确定的全国 832 个贫困县全部脱贫摘帽, 脱贫攻坚取得重大突破. 为了使扶贫工作继续推向深入, 2021 年某原贫困县对家庭状况较困难的农民实行购买农资优惠政策.

(1) 若购买农资不超过 2 000 元, 则不给予优惠;

(2) 若购买农资超过 2 000 元但不超过 5 000 元, 则按原价给予 9 折优惠;

(3) 若购买农资超过 5 000 元, 不超过 5 000 元的部分按原价给予 9 折优惠, 超过 5 000 元的部分按原价给予 7 折优惠.

该县家境较困难的一户农民预购买一批农资, 有如下两种方案:

方案一: 分两次付款购买, 实际付款分别为 3 150 元和 4 850 元;

方案二: 一次性付款购买.

若采取方案二购买这批农资, 则比方案一节省 元.

答案: 700

解析: $3150 \div 0.9 = 3500$, $(4850 - 4500) \div 0.7 + 5000 = 5500$, $3500 + 5500 = 9000$,
 $4500 + 4000 \times 0.7 = 7300$, $3150 + 4850 - 7300 = 700$.

四、解答题 (本大题共 6 小题, 共计 70 分. 请在答题卡指定区域内作答. 解答时应写出文字说明、证明过程或演算步骤)

17. (本小题满分 10 分)

已知数列 $\{a_n\}$ 中, $a_1 = a_2 = 1$, 且 $a_{n+2} = a_{n+1} + 2a_n$. 记 $b_n = a_{n+1} + a_n$, 求证:

(1) $\{b_n\}$ 是等比数列;

(2) $\{b_n\}$ 的前 n 项和 T_n 满足 $\frac{b_n}{T_1 \cdot T_2} + \frac{b_3}{T_2 \cdot T_3} + \cdots + \frac{b_{n+1}}{T_n \cdot T_{n+1}} < \frac{1}{2}$.

解: (1) 证明: 由 $a_{n+2} = a_{n+1} + 2a_n$, 得 $b_{n+1} = a_{n+2} + a_{n+1} = 2(a_{n+1} + a_n) = 2b_n$,

又 $b_1 = a_1 + a_2 = 2 \neq 0$, 所以 $\{b_n\}$ 是以 2 为首项, 2 为公比的等比数列,

(2) 由 (1) 知, $T_n = \frac{2-2^n \times 2}{1-2} = 2(2^n - 1)$,

于是 $\frac{b_{n+1}}{T_n \cdot T_{n+1}} = \frac{T_{n+1} - T_n}{T_n \cdot T_{n+1}} = \frac{1}{T_n} - \frac{1}{T_{n+1}} = \frac{1}{2} \left(\frac{1}{2^n - 1} - \frac{1}{2^{n+1} - 1} \right)$,

$$\frac{b_2}{T_1 \cdot T_2} + \frac{b_3}{T_2 \cdot T_3} + \cdots + \frac{b_{n+1}}{T_n \cdot T_{n+1}} = \frac{1}{2} \left[\left(\frac{1}{2^1 - 1} - \frac{1}{2^2 - 1} \right) + \left(\frac{1}{2^2 - 1} - \frac{1}{2^3 - 1} \right) + \cdots + \left(\frac{1}{2^n - 1} - \frac{1}{2^{n+1} - 1} \right) \right] = \frac{1}{2} \left(1 - \frac{1}{2^{n+1} - 1} \right).$$

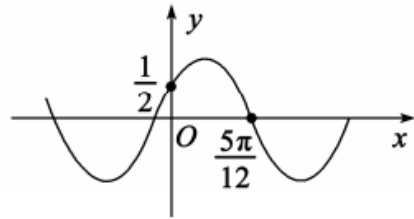
因为 $\frac{1}{2^{n+1} - 1} > 0$, 所以 $\frac{b_2}{T_1 \cdot T_2} + \frac{b_3}{T_2 \cdot T_3} + \cdots + \frac{b_{n+1}}{T_n \cdot T_{n+1}} < \frac{1}{2}$.

18. (本小题满分 12 分)

若 $f(x) = \sin(\omega x + \varphi)$ ($\omega > 0$, $0 < \varphi < \frac{\pi}{2}$) 的部分图象如图所示, $f(0) = \frac{1}{2}$, $f\left(\frac{5\pi}{12}\right) = 0$.

(1) 求 $f(x)$ 的解析式;

(2) 在锐角 $\triangle ABC$ 中, 若 $A > B$, $f\left(\frac{A-B}{2} - \frac{\pi}{12}\right) = \frac{3}{5}$, 求 $\cos \frac{A-B}{2}$, 并证明 $\sin A > \frac{2\sqrt{5}}{5}$.



解: (1) 由 $f(0) = \frac{1}{2}$, 得 $\sin \varphi = \frac{1}{2}$, 又 $0 < \varphi < \frac{\pi}{2}$, 故 $\varphi = \frac{\pi}{6}$,

由 $f\left(\frac{5\pi}{12}\right) = 0$, 得 $\sin\left(\omega \cdot \frac{5\pi}{12} + \frac{\pi}{6}\right) = 0$,

所以 $\omega \cdot \frac{5\pi}{12} + \frac{\pi}{6} = k\pi$, $k \in \mathbf{Z}$,

即 $\omega = \frac{2}{5}(6k-1)$, $k \in \mathbf{Z}$,

由 $\omega > 0$, 结合函数图象可知 $\frac{1}{2} \cdot \frac{2\pi}{\omega} > \frac{5\pi}{12}$, 所以 $0 < \omega < \frac{12}{5}$,

所以有 $0 < \frac{2}{5}(6k-1) < \frac{12}{5}$, 即 $\frac{1}{6} < k < \frac{7}{6}$, 又 $k \in \mathbf{Z}$, 所以 $k=1$,

从而 $\omega = \frac{2}{5} \times (6 \times 1 - 1) = 2$, 因此, $f(x) = \sin\left(2x + \frac{\pi}{6}\right)$;

(2) 由 $f\left(\frac{A-B}{2} - \frac{\pi}{12}\right) = \frac{3}{5}$, 得 $\sin(A-B) = \frac{3}{5}$,

又 $0 < A - B < \frac{\pi}{2}$, 故 $\cos(A - B) = \frac{4}{5}$,

于是 $\cos \frac{A - B}{2} = \sqrt{\frac{1 + \cos(A - B)}{2}} = \frac{3}{\sqrt{10}}$,

又 $A + B > \frac{\pi}{2}$, 所以 $A = \frac{A + B}{2} + \frac{A - B}{2} > \frac{\pi}{4} + \frac{A - B}{2}$,

又 $y = \sin x$ 在 $(0, \frac{\pi}{2})$ 上单调递增, $A \in (0, \frac{\pi}{2})$, $\frac{\pi}{4} + \frac{A - B}{2} \in (0, \frac{\pi}{2})$,

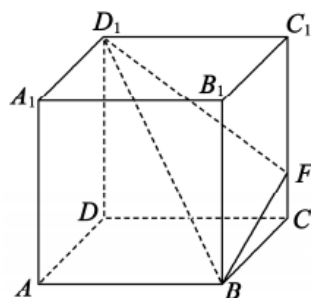
所以 $\sin A > \sin(\frac{\pi}{4} + \frac{A - B}{2}) = \frac{\sqrt{2}}{2} \times (\frac{3}{\sqrt{10}} + \frac{1}{\sqrt{10}}) = \frac{2\sqrt{5}}{5}$.

19. (本小题满分 12 分)

如图, 正方体 $ABCD - A_1B_1C_1D_1$ 的棱长为 1, 点 F 在棱 CC_1 上, 过 B, D_1, F 三点的正方体的截面 α 与直线 AA_1 交于点 E .

(1) 找到点 E 的位置, 作出截面 α (保留作图痕迹), 并说明理由;

(2) 已知 $CF = a$, 求 α 将正方体分割所成的上半部分的体积 V_1 与下半部分的体积 V_2 之比.



解: (1) 在正方形 CDD_1C_1 中, 过 F 作 $FG \parallel DC$, 且交棱 DD_1 于点 G ,

连接 AG , 在正方形 ADD_1A_1 内过 D_1 作 $D_1E \parallel AG$, 且交棱 AA_1 于点 E ,

连接 EB, ED_1 , 则四边形 BED_1F 就是要作的截面 α ,

理由: 由题意, 平面 $\alpha \cap$ 平面 $AD_1 = D_1E$,

$\alpha \cap$ 平面 $BC_1 = BF$, 平面 $AD_1 \parallel$ 平面 BC_1 ,

应有 $D_1E \parallel BF$,

同理, $BE \parallel FD_1$, 所以四边形 BED_1F 应是平行四边形,

由作图过程, $FG \parallel DC$, $FG = DC$. 又 $AB \parallel DC$, $AB = DC$,

所以 $AB \parallel FG$, $AB = FG$, 所以四边形 $ABFG$ 是平行四边形,

所以 $AG \parallel BF$, $AG = BF$,

由作图过程, $D_1E \parallel AG$, 又 $EA \parallel D_1G$,

所以四边形 $EAGD_1$ 是平行四边形, 所以 $D_1E \parallel AG$, $D_1E = AG$.

又 $AG \parallel BF$, $AG = BF$, 所以 $D_1E \parallel BF$, 且 $D_1E = BF$,

所以四边形 BED_1F 是平行四边形, 四边形 BED_1F 就是要作的截面;

方法不唯一, 其他方法正确的一律给分,

(2) 由题意, $CF = a$ ($0 < a < 1$), 由 (1) 的证明过程, 可得 $A_1E = a$,

连接 D_1B_1 , 则平面 α 将正方体分割所成的上半部分的几何体可视为四棱锥

$D_1 - A_1EBB_1$ 与四棱锥 $D_1 - B_1BFC_1$ 的组合体,

$$V_1 = V_{D_1 - A_1EBB_1} + V_{D_1 - B_1BFC_1} = \frac{1}{3} \times \frac{(a+1) \times 1}{2} \times 1 + \frac{1}{3} \times \frac{[(1-a)+1] \times 1}{2} \times 1 = \frac{1}{2}.$$

该正方体的体积 $V = 1$, $V_2 = V - V_1 = 1 - \frac{1}{2} = \frac{1}{2}$. 所以 $V_1 : V_2 = 1$.

20. (本小题满分 12 分)

天问一号火星探测器于 2021 年 2 月 10 日成功被火星捕获, 实现了中国在深空探测领域的技术跨越. 为提升探测器健康运转的管理水平, 西安卫星测控中心组织青年科技人员进行探测器遥控技能知识竞赛, 已知某青年科技人员甲是否做对每个题目相互独立, 做对 A, B, C 三道题目的概率以及做对时获得相应的奖金如表所示.

题目	A	B	C
做对的概率	0.8	0.6	0.4
获得的奖金/元	1 000	2 000	3 000

规则如下: 按照 A, B, C 的顺序做题, 只有做对当前题目才有资格做下一题.

(1) 求甲获得的奖金 X 的分布列及均值;

(2) 如果改变做题的顺序, 获得奖金的均值是否相同? 如果不同, 你认为哪个顺序获得奖金的均值最大? (不需要具体计算过程, 只需给出判断)

解: (1) 分别用 A, B, C 表示做对题目 A, B, C 的事件, 则 A, B, C 相互独立,

由题意, X 的可能取值为 0, 1000, 3000, 6000

$$P(X=0) = P(\bar{A}) = 0.2; \quad P(X=1000) = P(A\bar{B}) = 0.8 \times 0.4 = 0.32$$

$$P(X=3000) = P(AB\bar{C}) = 0.8 \times 0.6 \times 0.6 = 0.288$$

$$P(X=6000) = P(ABC) = 0.8 \times 0.6 \times 0.4 = 0.192$$

所以甲获得的奖金 X 的分布列为：

X	0	1000	3000	6000
P	0.2	0.32	0.288	0.192

$$E(X) = 0 \times 0.2 + 1000 \times 0.32 + 3000 \times 0.288 + 6000 \times 0.192 = 2336;$$

(2) 改变做题的顺序，获得奖金的均值互不相同，

决策的原则是选择期望值 $E(X)$ 大的做题顺序，这称为期望值原则，做对的概率大表示题目比较容易，做对的概率小表示题目比较难。猜想：按照由易到难的顺序做题，即按照题目 A, B, C 的顺序做题，得到奖金的期望值最大。

21. (本题满分 12 分)

已知动点 M 与两个定点 $O(0, 0)$, $A(3, 0)$ 的距离的比为 $\frac{1}{2}$ ，动点 M 的轨迹为曲线 C 。

(1) 求 C 的轨迹方程，并说明其形状；

(2) 过直线 $x=3$ 上的动点 $P(3, p)(p \neq 0)$ 分别作 C 的两条切线 PQ 、 PR (Q 、 R 为切点)， N 为弦 QR 的中点，直线 $l: 3x+4y=6$ 分别与 x 轴、 y 轴交于点 E 、 F ，求 $\triangle NEF$ 的面积 S 的取值范围。

解：(1) 设 $M(x, y)$ ，由 $\frac{|MO|}{|MA|} = \frac{1}{2}$ ，得 $\frac{\sqrt{x^2 + y^2}}{\sqrt{(x-3)^2 + y^2}} = \frac{1}{2}$ ，

$$\text{化简得 } x^2 + y^2 + 2x - 3 = 0, \text{ 即 } (x+1)^2 + y^2 = 4,$$

故 C 是以 $(-1, 0)$ 为圆心，半径为 2 的圆，

(2) 设 $D(-1, 0)$ ，又 $P(3, p)(p \neq 0)$ ，则 DP 的中点为 $(1, \frac{p}{2})$ ， $|DP| = \sqrt{16 + p^2}$ ，

以线段 DP 为直径的圆的方程为 $(x-1)^2 + (y - \frac{p}{2})^2 = (\frac{\sqrt{16 + p^2}}{2})^2$ ，

$$\text{整理得 } x^2 + y^2 - 2x - py - 3 = 0 \text{ ①}$$

由题意， Q 、 R 在以 DP 为直径的圆上，

又 Q 、 R 在 C : $x^2 + y^2 + 2x - 3 = 0$ ② 上，

$$\text{由 ②} - \text{①, 得 } 4x + py = 0,$$

所以，切点弦 QR 所在直线的方程为 $4x + py = 0$ 。

可见 QR 恒过坐标原点 $O(0, 0)$ ，

$$\text{由 } \begin{cases} 4x + py = 0, \\ (x+1)^2 + y^2 = 4 \end{cases} \text{ 消去 } x \text{ 并整理得 } (16 + p^2)y^2 - 8py - 48 = 0.$$

$$\text{设 } Q(x_1, y_1), R(x_2, y_2), \text{ 则 } y_1 + y_2 = \frac{8p}{16 + p^2},$$

点 N 纵坐标 $y_N = \frac{y_1 + y_2}{2} = \frac{4p}{16 + p^2}$,

因为 $p \neq 0$, 显然 $y_N \neq 0$,

所以点 N 与点 D(-1, 0), O(0, 0) 均不重合,

因为 N 为弦 QR 的中点, 且 D(-1, 0) 为圆 C 的圆心,

由圆的性质, 可得 $DN \perp QR$, 即 $DN \perp ON$,

所以点 N 在以 OD 为直径的圆上, 圆心为 $G(-\frac{1}{2}, 0)$, 半径 $r = \frac{1}{2}$,

因为直线 $3x + 4y = 6$ 分别与 x 轴、y 轴交于点 E、F,

所以 $E(2, 0), F(0, \frac{3}{2})$, 因此 $|EF| = \frac{5}{2}$,

圆心 $G(-\frac{1}{2}, 0)$ 到直线 $3x + 4y = 6$ 的距离 $d = \frac{|3 \times (-\frac{1}{2}) + 4 \times 0 - 6|}{\sqrt{3^2 + 4^2}} = \frac{3}{2}$,

设 $\triangle NEF$ 的边 EF 上的高为 h, 则点 N 到直线 $3x + 4y = 6$ 的距离 h 的最小值为

$d - r = \frac{3}{2} - \frac{1}{2} = 1$; 点 N 到直线 $3x + 4y = 6$ 的距离 h 的最大值为 $d + r = \frac{3}{2} + \frac{1}{2} = 2$.

S 的最小值 $S_{\min} = \frac{1}{2} \times \frac{5}{2} \times 1 = \frac{5}{4}$, 最大值 $S_{\max} = \frac{1}{2} \times \frac{5}{2} \times 2 = \frac{5}{2}$.

因此 $\triangle NEF$ 的面积 S 的取值范围是 $[\frac{5}{4}, \frac{5}{2}]$.

22. (本题满分 12 分)

已知函数 $f(x) = a \cos x + 1 - e^{\frac{\pi}{2}-x}$, 且 $f'(\frac{\pi}{2}) = 0$.

(1) 求实数 a 的值, 并判断 $f(x)$ 在 $(0, \frac{\pi}{2})$ 上的单调性;

(2) 对确定的 $k \in \mathbb{N}^*$, 求 $f(x)$ 在 $[2k\pi + \frac{\pi}{2}, 2k\pi + \pi]$ 上的零点个数.

解: (1) 函数 $f(x)$ 的定义域为 \mathbb{R} , $f'(x) = -a \sin x + e^{\frac{\pi}{2}-x}$.

所以 $f'(\frac{\pi}{2}) = -a \sin \frac{\pi}{2} + e^{\frac{\pi}{2}-\frac{\pi}{2}} = 1 - a$, 由题意, $1 - a = 0$, 即 $a = 1$.

于是, $f'(x) = -\sin x + e^{\frac{\pi}{2}-x}$.

当 $x \in (0, \frac{\pi}{2})$ 时, $f'(x) = -\sin x + e^{\frac{\pi}{2}-x} > e^0 - \sin x = 1 - \sin x > 0$.

所以 $f(x)$ 在 $(0, \frac{\pi}{2})$ 上单调递增;

(2) $f(x) = \cos x + 1 - e^{\frac{\pi-x}{2}}$. 因为 $e^{\frac{x-\pi}{2}} \neq 0$, 所以 $g(x) = e^{\frac{x-\pi}{2}} f(x) = (1 + \cos x)e^{\frac{x-\pi}{2}} - 1$ 与 $f(x)$ 在 $[2k\pi + \frac{\pi}{2}, 2k\pi + \pi] (k \in \mathbf{N})$ 上有相同的零点,

$$g'(x) = (1 + \cos x - \sin x)e^{\frac{x-\pi}{2}} = [1 + \sqrt{2} \cos(x + \frac{\pi}{4})]e^{\frac{x-\pi}{2}}.$$

当 $x \in (2k\pi + \frac{\pi}{2}, 2k\pi + \pi)$ 时, $x + \frac{\pi}{4} \in (2k\pi + \frac{3\pi}{4}, 2k\pi + \frac{5\pi}{4})$, $\cos(x + \frac{\pi}{4}) \in [-1, -\frac{\sqrt{2}}{2})$,

$$\sqrt{2} \cos(x + \frac{\pi}{4}) \in [-\sqrt{2}, -1), \quad 1 + \sqrt{2} \cos(x + \frac{\pi}{4}) < 0.$$

又 $e^{\frac{x-\pi}{2}} > 0$, 所以 $g'(x) = [1 + \sqrt{2} \cos(x + \frac{\pi}{4})]e^{\frac{x-\pi}{2}} < 0$,

所以, 当 $x \in [2k\pi + \frac{\pi}{2}, 2k\pi + \pi]$ 时, $g(x)$ 单调递减,

$$g(2k\pi + \frac{\pi}{2}) = e^{2k\pi} - 1 > e^0 - 1 = 0, \quad g(2k\pi + \pi) = -1 < 0,$$

又

由零点存在性定理及 $g(x)$ 的单调性, 知 $g(x)$ 在 $[2k\pi + \frac{\pi}{2}, 2k\pi + \pi] (k \in \mathbf{N})$ 上有且仅有一个零点,

所以 $f(x)$ 在 $[2k\pi + \frac{\pi}{2}, 2k\pi + \pi] (k \in \mathbf{N})$ 上恰有一个零点.